



Kurt Guth Marcus Mery

Der Einstellungstest / Eignungstest zur Ausbildung:

Kaufmann für Spedition und Logistikdienstleistung,
Fachkraft für Lagerlogistik, Fachlagerist



Geeignet für alle Berufe der Lagerlogistik
und Logistikdienstleistungen



**Der Einstellungstest / Eignungstest zur Ausbildung
Kaufmann für Spedition und Logistikdienstleistung,
Fachkraft für Lagerlogistik und Fachlagerist**

Kurt Guth Marcus Mery

Der Einstellungstest / Eignungstest zur Ausbildung:

**Kaufmann für Spedition und Logistikdienstleistung,
Fachkraft für Lagerlogistik und Fachlagerist**

**Geeignet für alle Berufe der Lagerlogistik
und Logistikdienstleistungen**



Kurt Guth / Marcus Mery
Der Einstellungstest / Eignungstest zur Ausbildung
Kaufmann für Spedition und Logistikdienstleistung,
Fachkraft für Lagerlogistik und
Fachlagerist
Geeignet für alle Berufe der Lagerlogistik und
Logistikdienstleistungen

Ausgabe 2015

2. Auflage

Herausgeber: Ausbildungspark Verlag,
Gültekin & Mery GbR, Offenbach, 2015

Das Autorenteam dankt Andreas Mohr
für die Unterstützung.

Umschlaggestaltung: SB Design, bitpublishing

Bildnachweis: Archiv des Verlages
Illustrationen: bitpublishing
Grafiken: bitpublishing, SB Design
Lektorat: Virginia Kretzer

Bibliografische Information der Deutschen Nationalbibliothek –

Die Deutsche Nationalbibliothek verzeichnet diese
Publikation in der Deutschen Nationalbibliografie;
detaillierte bibliografische Daten sind im Internet
über <http://dnb.dnb.de> abrufbar.

Gedruckt auf chlorfrei gebleichtem Papier

© 2015 Ausbildungspark Verlag
Lübecker Straße 4, 63073 Offenbach
Printed in Germany

Satz: bitpublishing, Schwalbach
Druck: Druckerei Sulzmann, Obertshausen ☺
Ausbildungspark Verlag, Offenbach ○

ISBN 978-3-95624-033-1 (PM)
ISBN 978-3-941356-49-8 (CD)

Das Werk, einschließlich aller seiner Teile, ist urheberrechtlich geschützt. Jede Verwertung außerhalb der engen Grenzen des Urheberrechtsgesetzes ist ohne Zustimmung des Verlages unzulässig und strafbar. Das gilt insbesondere für Vervielfältigungen, Übersetzungen, Mikroverfilmungen und die Einspeicherung und Verarbeitung in elektronischen Systemen.

Inhaltsverzeichnis

Just in Time: Ausbildung in Logistikberufen	10
Die Anforderungen	10
Gut vorbereitet mit diesem Prüfungspaket	10
E. Einführung	13
Der Einstellungstest: Aufbau und Inhalte.....	14
Die Aufgabentypen im Überblick.....	14
Der Testablauf	16
Ihr Fahrplan für die schriftliche Prüfung.....	17
Richtig lernen	18
Die Testsimulation	18
1. Prüfung · Kaufmann/-frau für Spedition und Logistikdienstleistung · A	21
Allgemeinwissen.....	22
Verschiedene Themen	22
Fachbezogenes Wissen	27
Branche und Beruf	27
Geografiekenntnisse: Deutschlandkarte	32
Geografiekenntnisse: Deutschland.....	35
Sprachbeherrschung	37
Richtige Schreibweise	37
Groß- und Kleinschreibung.....	39
Fremdsprachenkenntnisse	41
Englisch: richtigen Satz wählen	41
Mathematik	43
Prozentrechnen	43
Zinsrechnen	45
Strecke, Verbrauch, Geschwindigkeit.....	47
Kartons und Paletten.....	49
Gemischte Textaufgaben	51
Maße und Einheiten umrechnen.....	54
Textaufgaben mit Tabelle	56
Textaufgaben mit Diagramm	59
Logisches Denkvermögen	62
Zahlenreihen fortsetzen	62
Zahlenmatrizen und Zahlenpyramiden.....	66
Visuelles Denkvermögen	70
Faltvorlagen.....	70

2. Prüfung · Kaufmann/-frau für Spedition und Logistikdienstleistung · B.....	75
Allgemeinwissen.....	76
Verschiedene Themen	76
Fachbezogenes Wissen	81
Branche und Beruf	81
Geografiekenntnisse: Europa	86
Geografiekenntnisse: Welt.....	89
Sprachbeherrschung	92
Richtige Schreibweise	92
Fremdwörter zuordnen	94
Fremdsprachenkenntnisse	96
Englisch: Bedeutung von Wörtern	96
Mathematik	98
Bruchrechnen.....	98
Prozentrechnen	100
Strecke, Verbrauch, Geschwindigkeit.....	103
Gemischte Textaufgaben	105
Maße und Einheiten umrechnen.....	107
Geometrie	109
Flächen berechnen	111
Schaubilder interpretieren.....	114
Logisches Denkvermögen	117
Buchstabenreihen fortsetzen	117
Zahlenmatrizen und Zahlenpyramiden.....	121
Visuelles Denkvermögen	125
Spielwürfel drehen und kippen	125
3. Prüfung · Fachkraft für Lagerlogistik · A	129
Allgemeinwissen.....	130
Verschiedene Themen	130
Fachbezogenes Wissen	135
Branche und Beruf	135
Geografie und Landeskunde	140
Sprachbeherrschung	142
Richtige Schreibweise	142
Schreibweise von Straßennamen	144
Mathematik	146
Grundrechenarten ohne Taschenrechner	146
Prozentrechnen	150
Dreisatz	152

Maße und Einheiten umrechnen.....	154
Angebote vergleichen	156
Gemischte Textaufgaben	159
Logisches Denkvermögen	161
Zahlenreihen fortsetzen	161
Wörter erkennen	166
Visuelles Denkvermögen	169
Faltvorlagen.....	169
4. Prüfung · Fachkraft für Lagerlogistik · B	175
Allgemeinwissen.....	176
Verschiedene Themen	176
Fachbezogenes Wissen	181
Branche und Beruf	181
Geografie: Europa und die Welt.....	186
Sprachbeherrschung	188
Richtige Schreibweise	188
Grammatik: Konjugation und Deklination.....	190
Mathematik	193
Grundrechenarten ohne Taschenrechner.....	193
Zinsrechnen	196
Dreisatz	198
Maße und Einheiten umrechnen.....	200
Gemischte Aufgaben.....	202
Textaufgaben mit Tabelle	204
Logisches Denkvermögen	207
Buchstabenreihen fortsetzen	207
Sprachlogik: Analogien.....	211
Meinung oder Tatsache	214
Visuelles Denkvermögen	217
Würfel drehen und kippen.....	217
5. Prüfung · Fachlagerist/in	221
Allgemeinwissen.....	222
Verschiedene Themen	222
Fachbezogenes Wissen	225
Branche und Beruf	225
Geografie und Landeskunde	230
Sprachbeherrschung	232
Richtige Schreibweise	232

Mathematik	234
Dreisatz	234
Maße und Einheiten umrechnen	236
Logisches Denkvermögen	238
Zahlenreihen fortsetzen	238
Sprachlogik: Analogien	243
Meinung oder Tatsache	246
Visuelles Denkvermögen	249
Räumliches Grundverständnis	249
A. Anhang	253
Lösungen	254
Prüfung 1 · Kaufmann/-frau für Spedition und Logistikdienstleistung · A	254
Prüfung 2 · Kaufmann/-frau für Spedition und Logistikdienstleistung · B	255
Prüfung 3 · Fachkraft für Lagerlogistik · A	256
Prüfung 4 · Fachkraft für Lagerlogistik · B	257
Prüfung 5 · Fachlagerist/in	258
Die Rechtschreibung	259
Tabelle: Maße und Einheiten	290

Just in Time: Ausbildung in Logistikberufen

Taschenlampen aus China, Hemden aus Indien, australisches Bier – was Globalisierung bedeutet, lässt sich heute in jedem Supermarkt studieren. Als Kunden entlockt uns das Potpourri der Herkunftsangaben mittlerweile kaum noch ein müdes Lächeln. Dass dahinter allerdings eine gewaltige Entwicklung steht, lässt sich schon an den nackten Zahlen ablesen: Zu Beginn der 90er-Jahre exportierten die Länder der Erde Güter im Wert von rund 3,5 Billionen US-Dollar, inzwischen liegt das Welthandelsvolumen bei knapp 19 Billionen Dollar! Um den Globus zieht sich ein immer dichter werdendes Netz von Warenströmen und Lieferketten – das Rückgrat der Weltwirtschaft.

Für ihre Auftraggeber aus Industrie und Handel arbeiten Logistikdienstleister weltweit mit Hochdruck daran, den Warentransport und -umschlag immer weiter zu beschleunigen. Zeit ist Geld. Kernaufgabe der Logistik ist es, die richtigen Güter zum richtigen Zeitpunkt in der richtigen Menge am richtigen Ort zur Verfügung zu stellen. Zu möglichst niedrigen Kosten, versteht sich. Dementsprechend sorgfältig sind auch in modernen Lagerhäusern alle Vorgänge durchgeplant, von der Anlieferung über die Einlagerung bis zum Versand.

Die Anforderungen

Damit aus einem Vorhaben ein sprichwörtliches „logistisches Meisterwerk“ wird, ist einiges an Koordinationsarbeit nötig: Verschiedene Prozesse wollen exakt geplant und präzise aufeinander abgestimmt werden. Wenn es bei nur einem der eng verzahnten Abläufe hakt, gerät schnell alles außer Takt. Eine Ausbildung in den Bereichen Spedition, Lagerhaltung und Logistik erfordert daher grundsätzlich viel Sorgfalt, Umsicht und ein hohes Organisationsvermögen.

Im schriftlichen Einstellungstest spielt die Mathematik eine große Rolle. Verständlich, denn wer Lieferzeiten, Frachtgewichte und Stauräume kalkulieren will, sollte im Umgang mit Zahlen versiert sein. Auch auf logisches und visuelles Denkvermögen legen die Betriebe in der Regel gesteigerten Wert. Darüber hinaus braucht man Sprachverständnis – vor allem im kaufmännischen Bereich auch in Englisch: Wo Güter aus aller Herren Länder über Meere, Schienen und Straßen zu ihren Bestimmungsorten reisen, sollten ihnen keine Sprachbarrieren entgegenstehen.

Gut vorbereitet mit diesem Prüfungspaket

Das Durcharbeiten der Prüfungen der letzten Jahre ist ein absolutes Muss für jeden, der sich auf einen Einstellungstest zur Ausbildung in den Bereichen Logistikdienstleistung und Lagerlogistik vorbereitet. So erkennen Sie, ob Ihr Kenntnisstand den Anforderungen entspricht. Außerdem lassen sich böse Überraschungen vermeiden, da fast alle aktuellen Prüfungsfragen so oder in ähnlicher Form schon einmal gestellt wurden.

Das vorliegende Prüfungspaket bietet Ihnen nicht nur zahlreiche originale Testfragen aus den Auswahlverfahren namhafter Unternehmen – es liefert auch kommentierte Lösungen und ausführliche Bearbeitungshinweise. Nehmen Sie sich ausreichend Zeit, das Buch und die Musterprüfungen konzentriert durchzuarbeiten. Verbreitern Sie Ihr Wissen, indem Sie möglichst alle Einzelprüfungen in

die Vorbereitung einbeziehen. Damit haben Sie alles zur Hand, was Sie brauchen, um Ihren Einstellungstest souverän zu meistern.

Dieses Prüfungspaket ...

- bereitet Sie zielgerichtet auf Ihren Eignungstest vor: zur Ausbildung als Kaufmann/-frau für Spedition und Logistikdienstleistung, Fachkraft für Lagerlogistik und Fachlagerist/in.
- enthält fünf Musterprüfungen zur optimalen Testsimulation.
- bekämpft die Prüfungsangst – denn das beste Mittel gegen Prüfungsstress und Unsicherheit ist eine gezielte Vorbereitung.
- vermittelt das notwendige Wissen.
- bringt Ihre Allgemeinbildung auf den neuesten Stand und frischt Ihr prüfungsrelevantes Schulwissen auf.
- steht für eine Prüfung ohne böse Überraschungen!

Viele zusätzliche Prüfungsfragen und Informationen finden Sie auf unserer Homepage www.ausbildungspark.com. Im Büchershop stehen außerdem weitere Publikationen zu Bewerbungs- und Auswahlverfahren in verschiedensten Branchen bereit.

Eine gute Vorbereitung und viel Erfolg in der Prüfung wünscht

Ihr Ausbildungspark-Team

Kontakt

Ausbildungspark Verlag
Kundenbetreuung
Lübecker Straße 4
63073 Offenbach



Telefon 069-40 56 49 73
Telefax 069-43 05 86 02
E-Mail: kontakt@ausbildungspark.com
Internet: www.ausbildungspark.com



Einführung

Der Einstellungstest: Aufbau und Inhalte.....	14
Die Aufgabentypen im Überblick	14
Der Testablauf	16
Ihr Fahrplan für die schriftliche Prüfung	17
Richtig lernen	18
Die Testsimulation	18

Richtig lernen

Welche Fragen in Ihrem Auswahltest konkret gestellt werden, das könnten Ihnen nur die Prüfer selbst beantworten – und die werden es nicht tun. Trotzdem können Sie sich auf alle Prüfungsinhalte gut vorbereiten: zum einen, indem Sie Ihre Wissensbasis erweitern, verschiedene Aufgabentypen und Lösungswege kennen lernen; zum anderen, indem Sie sich an die Prüfungssituation und den Testablauf gewöhnen. Aber auch das Lernen selbst will gelernt sein. Mit den richtigen Methoden fällt die Vorbereitung leichter.

Informationen sammeln: Bringen Sie mehr über Ihren künftigen Arbeitgeber und den angestrebten Beruf in Erfahrung: Studieren Sie Prospekte und Broschüren, nutzen Sie Tage der offenen Tür, recherchieren Sie im Internet, kontaktieren Sie Ihren Ansprechpartner im Unternehmen. Eventuell erfahren Sie so auch noch einige zusätzliche Details über den Testablauf und die Prüfungsinhalte. Fragen kostet nichts!

Bildung verbreitern: Eine gute Allgemeinbildung bringt in jedem Einstellungstest Vorteile. Informieren Sie sich daher über das aktuelle Zeitgeschehen. Möglichkeiten dafür gibt es viele, ob via Internet, Radio, Fernsehen oder Zeitung. Wer sich kein Zeitungsabonnement leisten will, findet in öffentlichen Bibliotheken Exemplare aller großen Tageszeitungen zur Gratis-Lektüre.

Pausen einplanen: In der Vorbereitungsphase von früh bis spät zu büffeln und dann noch die Nacht zum Tag zu machen, ist nicht besonders effektiv. Gönnen Sie sich ausreichend Schlaf und regelmäßige Verschnaufpausen. Bewährt hat sich die Einteilung in Lernblöcke: nach 30 Arbeitsminuten 5 Minuten abschalten, alle 90 Minuten für eine Viertelstunde pausieren, nach jeweils vier Stunden 1–2 Stunden unterbrechen.

Die Testsimulation

Das vorliegende Prüfungspaket ist so konzipiert, dass Sie den schriftlichen / computergestützten Einstellungstest realistisch simulieren und seinen Ablauf wirklichkeitsnah nachvollziehen können. Wir empfehlen Ihnen folgende Vorgehensweise zur effektiven Vorbereitung:

- Bearbeiten Sie den ersten Test, bevor Sie die Lösungshinweise und Antworten in diesem Buch lesen.
- Legen Sie sich einen Taschenrechner, einen Bleistift und Notizpapier bereit.
- Folgen Sie den Bearbeitungshinweisen.
- Überspringen Sie keine Kapitel.
- Halten Sie sich an die angegebenen Zeitvorgaben.
- Bearbeiten Sie immer erst eine vollständige Prüfung, bevor Sie die dazugehörigen Antworten im Lösungsbuch nachschlagen.
- Vergleichen Sie Ihre Testergebnisse in den verschiedenen Prüfungen. Machen Sie sich Ihre Fortschritte bewusst, aber finden Sie auch heraus, in welchem Bereich noch Schwachstellen liegen.
- Nutzen Sie das Lösungsbuch, um Ihr Verständnis der Testaufgaben zu vertiefen und einzelne Themen intensiver aufzuarbeiten.

Dieses Lösungsbuch liefert Ihnen zu jeder Frage sowohl die korrekte Antwort als auch umfangreiche Bearbeitungshinweise und einen ausführlich kommentierten Lösungsweg. Nehmen Sie sich die Zeit, das Prinzip der Aufgaben vollständig zu verstehen, bevor Sie weiterarbeiten. So gehen Sie gut gerüstet in Ihre Einstellungsprüfung!

Wir wünschen Ihnen viel Erfolg!

1

Prüfung

Kaufmann/-frau für Spedition und Logistikdienstleistung

Allgemeinwissen.....	22
Verschiedene Themen	22
Fachbezogenes Wissen	27
Branche und Beruf.....	27
Geografiekennnisse: Deutschlandkarte.....	32
Geografiekennnisse: Deutschland	35
Sprachbeherrschung	37
Richtige Schreibweise	37
Groß- und Kleinschreibung	39
Fremdsprachenkenntnisse	41
Englisch: richtigen Satz wählen.....	41
Mathematik	43
Prozentrechnen	43
Zinsrechnen	45
Strecke, Verbrauch, Geschwindigkeit	47
Kartons und Paletten	49
Gemischte Textaufgaben	51
Maße und Einheiten umrechnen	54
Textaufgaben mit Tabelle	56
Textaufgaben mit Diagramm.....	59
Logisches Denkvermögen	62
Zahlenreihen fortsetzen	62
Zahlenmatrizen und Zahlenpyramiden	66
Visuelles Denkvermögen	70
Faltvorlagen	70

Prüfung

1

**Kaufmann/-frau für Spedition und
Logistikdienstleistung • A**

SK – P1



Fachbezogenes Wissen

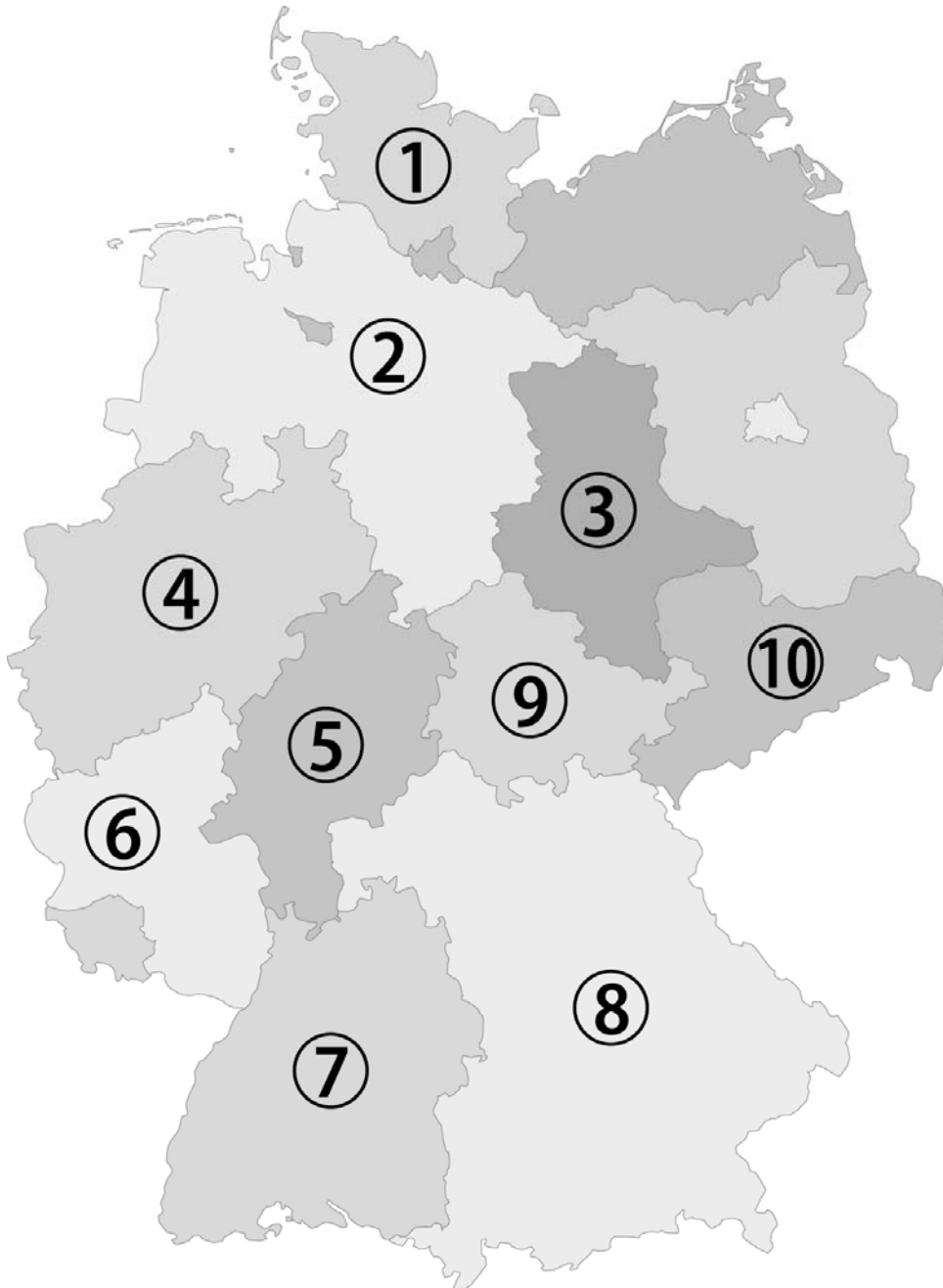
Geografiekenntnisse: Deutschlandkarte

Bearbeitungszeit 5 Minuten

Mit den folgenden Aufgaben werden Ihre Geografiekenntnisse geprüft.

Auf einer Deutschlandkarte sind zehn Bundesländer mit Zahlen gekennzeichnet.

Bitte beantworten Sie die folgenden Aufgaben, indem Sie Länder und Zahlen korrekt zuordnen und jeweils den richtigen Antwortbuchstaben markieren.



Sprachbeherrschung

Groß- und Kleinschreibung

Bearbeitungszeit 5 Minuten

In diesem Aufgabenteil geht es darum, die richtige Schreibweise zu erkennen.

Beantworten Sie bitte die folgenden Aufgaben, indem Sie jeweils den Lösungsbuchstaben des korrekt geschriebenen Satzes markieren.

36.

- A. Sie bekommt sofort Angst.
- B. Sie bekommt sofort angst.
- C. Sie bekommt Sofort Angst.
- D. Sie bekommt Sofort angst.
- E. Keine Antwort ist richtig.

39.

- A. Es war jenseits von gut und böse.
- B. Es war jenseits von Gut und Böse.
- C. Es war jenseits von Gut und böse.
- D. Es war jenseits von gut und Böse.
- E. Keine Antwort ist richtig.

37.

- A. Jeder Dritte wurde krank.
- B. Jeder dritte wurde krank.
- C. Jeder Dritte wurde Krank.
- D. Jeder dritte wurde Krank.
- E. Keine Antwort ist richtig.

40.

- A. Das Gericht hat immer recht.
- B. Das Gericht hat immer Recht.
- C. Das gericht hat immer Recht.
- D. Das gericht hat immer recht.
- E. Keine Antwort ist richtig.

38.

- A. Sie war bei Jung und Alt gleichermaßen beliebt.
- B. Sie war bei jung und alt gleichermaßen beliebt.
- C. Sie war bei jung und Alt gleichermaßen beliebt.
- D. Sie war bei Jung und alt gleichermaßen beliebt.
- E. Keine Antwort ist richtig.

Mathematik

Prozentrechnen

Bearbeitungszeit 5 Minuten

Bei der Prozentrechnung gibt es drei Größen, die zu beachten sind, den Prozentsatz, den Prozentwert und den Grundwert. Zwei dieser Größen müssen gegeben sein, um die dritte Größe berechnen zu können.

Beantworten Sie bitte die folgenden Aufgaben, indem Sie jeweils den richtigen Buchstaben markieren.

46. Durch seine langjährige Erfahrung im Handel konnte Herr Mayer den Preis für sein neues Fahrzeug von 20.000 € auf 18.000 € drücken. Wie viel Prozent Rabatt konnte Herr Mayer durch sein geschicktes Verhandeln erzielen?
- A. 5 %
 B. 10 %
 C. 15 %
 D. 20 %
 E. Keine Antwort ist richtig.
47. Wie viel Prozent müsste eine Gehaltserhöhung betragen, wenn Herr Schneider anstatt 3.000 € jetzt 3.600 € verdienen wollte?
- A. 10 %
 B. 15 %
 C. 20 %
 D. 25 %
 E. Keine Antwort ist richtig.
48. Kollege Schneider erhält nach der Tarifierhöhung von vier Prozent ein Gehalt von 3.120 €. Wie viel Euro hat Herr Schneider vor der Tarifierhöhung erhalten?
- A. 2.500 €
 B. 2.000 €
 C. 3.000 €
 D. 4.000 €
 E. Keine Antwort ist richtig.
49. Herr Mayer kauft einen Sonderposten für 18.000 € und möchte diesen für 25.200 € weiterverkaufen. Wie viel Prozent Gewinn würde Herr Mayer erzielen?
- A. 30 %
 B. 35 %
 C. 40 %
 D. 50 %
 E. Keine Antwort ist richtig.
50. In einer Firma fahren 60 % der Männer und 30 % der Frauen mit dem PKW zur Arbeit. Wie viel Prozent der Belegschaft kommen mit dem PKW zur Arbeit, wenn die Belegschaft zu 60 % aus Männern besteht?
- A. 40 %
 B. 48 %
 C. 58 %
 D. 65 %
 E. Keine Antwort ist richtig.

Visuelles Denkvermögen

Faltvorlagen

Aufgabenerklärung

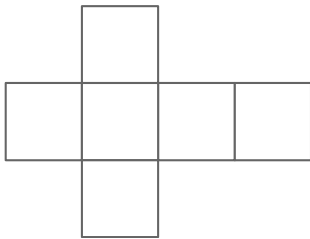
In diesem Abschnitt wird Ihr visuelles Denkvermögen getestet.

Sie sehen eine Faltvorlage. Finden Sie heraus, welche der fünf Figuren A bis E daraus hergestellt werden kann.

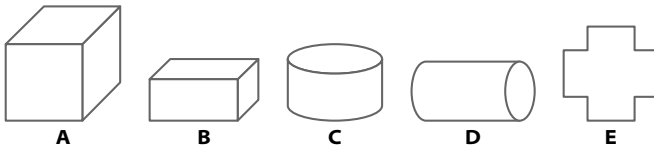
Hierzu ein Beispiel

Aufgabe

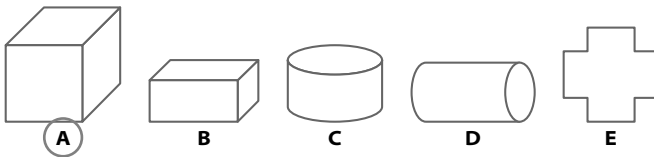
1. Diese Faltvorlage ist die Außenseite eines Körpers.



Welcher der Körper A bis E kann aus der Faltvorlage gebildet werden?



Antwort



2

Prüfung

Kaufmann/-frau für Spedition und Logistikdienstleistung

Allgemeinwissen.....	76
Verschiedene Themen	76
Fachbezogenes Wissen	81
Branche und Beruf.....	81
Geografiekennnisse: Europa.....	86
Geografiekennnisse: Welt.....	89
Sprachbeherrschung	92
Richtige Schreibweise	92
Fremdwörter zuordnen	94
Fremdsprachenkenntnisse	96
Englisch: Bedeutung von Wörtern.....	96
Mathematik	98
Bruchrechnen	98
Prozentrechnen	100
Strecke, Verbrauch, Geschwindigkeit	103
Gemischte Textaufgaben	105
Maße und Einheiten umrechnen	107
Geometrie.....	109
Flächen berechnen	111
Schaubilder interpretieren.....	114
Logisches Denkvermögen	117
Buchstabenreihen fortsetzen.....	117
Zahlenmatrizen und Zahlenpyramiden	121
Visuelles Denkvermögen	125
Spielwürfel drehen und kippen.....	125

Prüfung

2

**Kaufmann/-frau für Spedition und
Logistikdienstleistung • B**

SK – P2



Allgemeinwissen

Verschiedene Themen

Bearbeitungszeit 10 Minuten

Die folgenden Aufgaben prüfen Ihr Allgemeinwissen.

Zu jeder Aufgabe werden verschiedene Lösungsmöglichkeiten angegeben.

Beantworten Sie bitte die folgenden Aufgaben, indem Sie jeweils den richtigen Buchstaben markieren.

101. Der Ramadan ...?

- A. ist der islamische Fastenmonat.
- B. ist das jüdische Neujahrsfest.
- C. ist das buddhistische Weihnachtsfest.
- D. ist das hinduistische Osterfest.
- E. Keine Antwort ist richtig.

102. Die Équipe Tricolore ist die französische ...?

- A. Ehrenformation der Jagdflieger.
- B. Bundespolizei.
- C. Fußball-Nationalelf.
- D. Verfassung.
- E. Keine Antwort ist richtig.

103. Wer bestimmt den Leitzinssatz im Euro-Währungsgebiet?

- A. Deutsche Bundesbank
- B. Deutsche Zentralbank
- C. Landesbanken
- D. Europäische Zentralbank
- E. Keine Antwort ist richtig.

104. Was sind Subventionen?

- A. Unterstützung des Militärs
- B. Strafen, die bei Verstoß gegen Gesetze angeordnet werden
- C. Mindestlöhne in der Landwirtschaft
- D. Finanzielle Unterstützung des Staates für Unternehmen
- E. Keine Antwort ist richtig.

Fremdsprachenkenntnisse

Englisch: Bedeutung von Wörtern

Bearbeitungszeit 5 Minuten

In diesem Abschnitt werden Ihre Englischkenntnisse geprüft.

Geben Sie die korrekte Bedeutung des englischen Wortes wieder, indem Sie den richtigen Buchstaben markieren.

141. fast

- A. beinahe
- B. schnell
- C. kaum
- D. ungefähr
- E. sicher

144. eventually

- A. möglicherweise
- B. schließlich
- C. festlich
- D. gelegentlich
- E. unabhängig

142. to brake

- A. stören
- B. beugen
- C. biegen
- D. bremsen
- E. brechen

145. Conscience

- A. Gewissen
- B. Bewusstsein
- C. Übereinstimmung
- D. Selbstsicherheit
- E. Wachsamkeit

143. responsible

- A. aufnahmefähig
- B. verantwortlich
- C. fleißig
- D. entschlossen
- E. umstritten

Mathematik

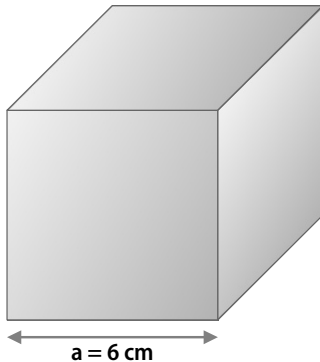
Geometrie

Bearbeitungszeit 5 Minuten

In diesem Abschnitt werden Ihre Geometriekenntnisse auf die Probe gestellt.

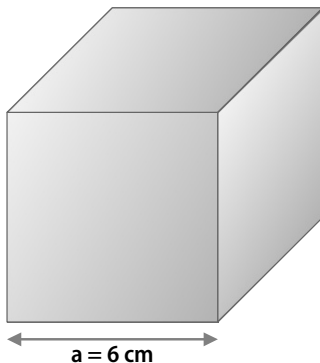
Beantworten Sie bitte die folgenden Aufgaben, indem Sie jeweils den richtigen Buchstaben markieren.

172. Wie groß ist die Oberfläche des abgebildeten Würfels?



- A. 12 cm^2
- B. 36 cm^2
- C. 72 cm^2
- D. 216 cm^2
- E. Keine Antwort ist richtig.

173. Wie groß ist das Volumen des abgebildeten Würfels?



- A. 12 cm^3
- B. 36 cm^3
- C. 72 cm^3
- D. 216 cm^3
- E. Keine Antwort ist richtig.

174. Ein Kreis hat einen Radius von 3 Metern. Wie groß ist sein Umfang? Der Umfang eines Kreises berechnet sich nach der Formel: $U = \pi \times d$.

- A. Rund 18,84 Meter
- B. Rund 16,06 Meter
- C. Rund 15,28 Meter
- D. Rund 11,14 Meter
- E. Rund 9,42 Meter

175. Eine Kugel hat einen Durchmesser (d) von 12 Zentimetern. Wie groß ist ihr Volumen? Das Kugelvolumen berechnet sich nach der Formel:

$$V = \frac{4}{3} \pi \times r^3 .$$

- A. Rund 1.609,02 cm^2
- B. Rund 1.309,18 cm^3
- C. Rund 210,34 cm^2
- D. Rund 486,46 cm^3
- E. Rund 904,32 cm^3

176. In einem Dreieck beträgt ein Innenwinkel 32° , ein zweiter 46° . Wie groß ist der dritte Winkel?

- A. 56°
- B. 45°
- C. 90°
- D. 102°
- E. Das lässt sich aus den vorhandenen Angaben nicht eindeutig schließen.

3

Prüfung

Fachkraft für Lagerlogistik

Allgemeinwissen.....	130
Verschiedene Themen	130
Fachbezogenes Wissen	135
Branche und Beruf.....	135
Geografie und Landeskunde.....	140
Sprachbeherrschung	142
Richtige Schreibweise	142
Schreibweise von Straßennamen	144
Mathematik	146
Grundrechenarten ohne Taschenrechner	146
Prozentrechnen	150
Dreisatz.....	152
Maße und Einheiten umrechnen	154
Angebote vergleichen	156
Gemischte Textaufgaben.....	159
Logisches Denkvermögen	161
Zahlenreihen fortsetzen	161
Wörter erkennen.....	166
Visuelles Denkvermögen	169
Faltvorlagen	169

Prüfung

3

Fachkraft für Lagerlogistik • A

SK - P3

Fachbezogenes Wissen

Branche und Beruf

Bearbeitungszeit 10 Minuten

Mit den folgenden Aufgaben wird Ihr fachbezogenes Wissen geprüft.

Beantworten Sie bitte die folgenden Aufgaben, indem Sie jeweils den richtigen Buchstaben markieren.

211. Wobei handelt es sich nicht um eine Transporteinheit?

- A. Karton
- B. Beladene Palette
- C. Schüttgut im KLT-Behälter
- D. Hubwagen
- E. Keine Antwort ist richtig.

212. Welches ist eine Aufgabe der Transportlogistik?

- A. Planung und Durchführung zur optimalen Standortwahl
- B. Planung und Durchführung zur Fertigstellung von Produkten
- C. Planung und Durchführung zur umweltschonenden Entsorgung
- D. Planung und Durchführung zur Be- und Entladung
- E. Keine Antwort ist richtig.

213. Was ist ein Barcode?

- A. Identifikationsnummer einer Kreditkarte
- B. Eine personengebundene Geheimzahl zur EC-Karte
- C. Ein anderes Wort für „Barzahlung“
- D. Eine maschinenlesbare Anordnung von Strichen
- E. Keine Antwort ist richtig.

214. Was ist eine Europoolpalette?

- A. Ein Ladehilfsmittel
- B. Eine Einwegpalette
- C. In der Regel eine Metallpalette
- D. Ein Transporthilfsmittel speziell für Obst und Gemüse
- E. Keine Antwort ist richtig.

Fachbezogenes Wissen

Geografie und Landeskunde

Bearbeitungszeit 5 Minuten

Mit den folgenden Aufgaben werden Ihre Geografiekenntnisse geprüft.

Beantworten Sie bitte die folgenden Aufgaben, indem Sie jeweils den richtigen Buchstaben markieren.

221. Welches ist die Landeshauptstadt von Hessen?

- A. Frankfurt
- B. Darmstadt
- C. Mainz
- D. Wiesbaden
- E. Keine Antwort ist richtig.

224. Durch welches Bundesland fließt die Oder?

- A. Bayern
- B. Hamburg
- C. Nordrhein-Westfalen
- D. Brandenburg
- E. Keine Antwort ist richtig.

222. In welcher Klimazone liegt Deutschland?

- A. Subtropen
- B. Kalte Zone
- C. Subpolare Zone
- D. Gemäßigte Breiten
- E. Keine Antwort ist richtig.

225. Wie lautet die Landeskennzahl von Deutschland?

- A. 39
- B. 0033
- C. 49
- D. 0041
- E. Keine Antwort ist richtig.

223. Welches ist das flächengrößte deutsche Bundesland?

- A. Mecklenburg-Vorpommern
- B. Bayern
- C. Rheinland-Pfalz
- D. Brandenburg
- E. Keine Antwort ist richtig.

Mathematik

Angebote vergleichen

Bearbeitungszeit 5 Minuten

Beantworten Sie bitte die folgenden Aufgaben, indem Sie jeweils den richtigen Buchstaben markieren.

Herr Mayer hat zwei Angebote für eine kleine Reparatur am Haus vorliegen. Bei den Preisen handelt es sich um Nettopreise ohne Mehrwertsteuer.

Angebot 1	
Arbeitszeit 4 Stunden à 24,00 €	
Kosten für Anfahrt:	100,00 €
Materialkosten:	104,00 €

Angebot 2	
Arbeitszeit 6 Stunden à 20,00 €	
Kosten für Anfahrt:	110,00 €
Materialkosten:	90,00 €

261. Wie hoch ist der Netto-Rechnungsbetrag für Angebot 1?

- A. 260,00 €
- B. 270,00 €
- C. 280,00 €
- D. 300,00 €
- E. Keine Antwort ist richtig.

262. Wie hoch ist der Netto-Rechnungsbetrag für Angebot 2?

- A. 295,00 €
- B. 300,50 €
- C. 310,00 €
- D. 320,00 €
- E. Keine Antwort ist richtig.

263. Herr Mayer muss auf die Arbeitszeit 19 % Mehrwertsteuer zahlen. Wie hoch ist der Preis pro Arbeitsstunde für Angebot 1 inklusive Mehrwertsteuer?

- A. 24,00 €
- B. 26,00 €
- C. 27,56 €
- D. 28,56 €
- E. Keine Antwort ist richtig.

4

Prüfung

Fachkraft für Lagerlogistik

Allgemeinwissen.....	176
Verschiedene Themen	176
Fachbezogenes Wissen	181
Branche und Beruf.....	181
Geografie: Europa und die Welt	186
Sprachbeherrschung	188
Richtige Schreibweise	188
Grammatik: Konjugation und Deklination	190
Mathematik	193
Grundrechenarten ohne Taschenrechner	193
Zinsrechnen	196
Dreisatz.....	198
Maße und Einheiten umrechnen	200
Gemischte Aufgaben.....	202
Textaufgaben mit Tabelle	204
Logisches Denkvermögen	207
Buchstabenreihen fortsetzen.....	207
Sprachlogik: Analogien	211
Meinung oder Tatsache	214
Visuelles Denkvermögen	217
Würfel drehen und kippen.....	217

Prüfung

4

Fachkraft für Lagerlogistik • B

SK - P4

Buchstabenreihen fortsetzen

Bearbeitungszeit 5Minuten

Beantworten Sie bitte die folgenden Aufgaben, indem Sie jeweils den richtigen Buchstaben markieren.

361.

- A. E
- B. F
- C. V
- D. Z
- E. Keine Antwort ist richtig.

362.

- A. P
- B. O
- C. Q
- D. J
- E. Keine Antwort ist richtig.

363.

- A. N
- B. M
- C. Q
- D. R
- E. Keine Antwort ist richtig.

Logisches Denkvermögen

Meinung oder Tatsache

Aufgabenerklärung

In diesem Abschnitt erhalten Sie verschiedene Aussagen, die Sie dahingehend überprüfen sollen, ob es sich um eine Meinung oder eine Tatsache handelt.

Handelt es sich um eine Meinung, so markieren Sie bitte „3“.

Handelt es sich um eine Tatsache, so markieren Sie bitte „4“.

Hierzu ein Beispiel

Aufgabe

1. Alle Katzen sind schwarz.

3. Meinung

4. Tatsache

Antwort

③ Meinung

Es handelt sich um eine subjektive Annahme – noch dazu um eine falsche: Es gibt schließlich auch Katzen mit anderen Haarfarben.

5

Prüfung

Fachlagerist/in

Allgemeinwissen.....	222
Verschiedene Themen	222
Fachbezogenes Wissen	225
Branche und Beruf.....	225
Geografie und Landeskunde.....	230
Sprachbeherrschung	232
Richtige Schreibweise	232
Mathematik	234
Dreisatz.....	234
Maße und Einheiten umrechnen	236
Logisches Denkvermögen	238
Zahlenreihen fortsetzen	238
Sprachlogik: Analogien.....	243
Meinung oder Tatsache.....	246
Visuelles Denkvermögen	249
Räumliches Grundverständnis.....	249

Prüfung

5

Fachlagerist/in

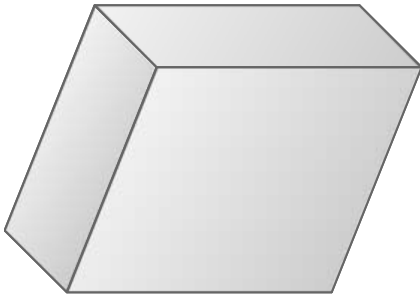
SK - P5

Räumliches Grundverständnis

Bearbeitungszeit 5 Minuten

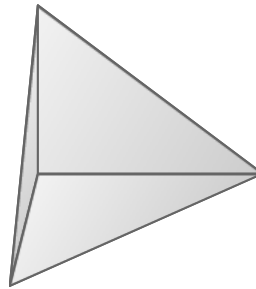
Beantworten Sie bitte die folgenden Aufgaben, indem Sie jeweils den richtigen Buchstaben markieren.

436. Aus wie vielen Flächen setzt sich diese Figur zusammen?



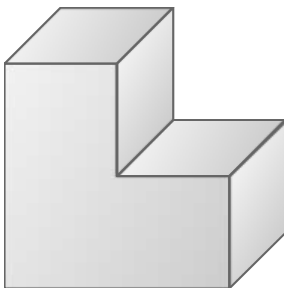
- A. 3
- B. 4
- C. 5
- D. 6
- E. Keine Antwort ist richtig.

438. Aus wie vielen Flächen setzt sich diese Figur zusammen?



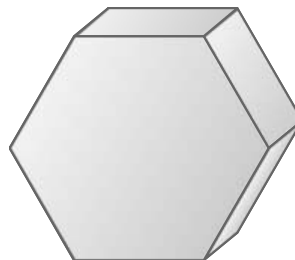
- A. 1
- B. 2
- C. 3
- D. 4
- E. Keine Antwort ist richtig.

437. Aus wie vielen Flächen setzt sich diese Figur zusammen?



- A. 6
- B. 7
- C. 8
- D. 9
- E. Keine Antwort ist richtig.

439. Aus wie vielen Flächen setzt sich diese Figur zusammen?



- A. 6
- B. 7
- C. 8
- D. 9
- E. Keine Antwort ist richtig.

A

Anhang

Lösungen	254
Prüfung 1 · Kaufmann/-frau für Spedition und Logistikdienstleistung · A	254
Prüfung 2 · Kaufmann/-frau für Spedition und Logistikdienstleistung · B	255
Prüfung 3 · Fachkraft für Lagerlogistik · A	256
Prüfung 4 · Fachkraft für Lagerlogistik · B	257
Prüfung 5 · Fachlagerist/in	258
Die Rechtschreibung	259
Tabelle: Maße und Einheiten.....	290

Die Rechtschreibung

Die wichtigsten Regeln der deutschen Rechtschreibung

Allgemeines

Ohne ein gewisses Regelwerk wäre es uns als Sprechern schwer möglich, klar zu kommunizieren. Daher hat jede Sprache ihre festen Ausdrücke, Begriffe, Regeln etc. Hätte jeder Sprecher eine eigene Art der gesprochenen Sprache – oder der Schriftsprache –, so würde es unzweifelhaft zu großen Komplikationen kommen und die Sprache wäre nicht Mittel der Verständigung. Die Grammatik einer Sprache bildet also für die Sprecher den notwendigen Rahmen, um sich so ausdrücken zu können, dass andere Mitglieder der Sprachgemeinschaft verstehen können. Wenn es sich um die Schriftsprache handelt, ist die Grammatik ganz besonders wichtig, da hinter einem geschriebenen Text immer ein Autor steht; jedoch hört man den Autor nicht sprechen, sondern liest **nur** einen Text.

Schon im Einstellungstest spielt die Rechtschreibkompetenz eine Rolle, daher werden wir hier eingehend die wichtigsten Regeln der deutschen Rechtschreibung darstellen. Wir richten uns natürlich nach dem aktuellsten Stand, also nach den mit der Rechtschreibreform von 2006 festgelegten Vorgaben.

Im Voraus sollen einschlägige Begriffe kurz erläutert werden, die zum Verstehen der nachfolgenden Abschnitte unbedingt notwendig sind.

Fachbegriff	Erklärung
Adjektiv	Eigenschaftswort: Mit dem Adjektiv werden Substantiven (Hauptwörtern) Eigenschaften zugewiesen. Die Adjektive verändern die Form nach Geschlecht, Zahl und Fall: z. B. <i>neu, richtig, hässlich</i> .
Adverb	Umstandswort: Sie geben den Umstand einer Situation/eines Ereignisses an, zudem sind sie nicht veränderbar: z. B. <i>jetzt, später, direkt</i> .
Artikel	Geschlechtswort: Mit den Artikeln wird im Deutschen das Geschlecht signalisiert, die Artikel sind Substantiven zumeist vorangestellt. Formveränderung nach Geschlecht, Zahl und Fall: z. B. <i>der Mann, die Frau, das Haus, die Autos</i> .
Beugen	Veränderung: Mit diesem Begriff wird das Verändern von Verben (<i>Konjugation</i>) und Substantiven, Artikeln, Pronomen, Adjektiven (<i>Deklination</i>) beschrieben. Vgl. Konjugation und Deklination.



Ausbildungspark Verlag

Lübecker Straße 4 • 63073 Offenbach
Tel. 069-40 56 49 73 • Fax 069-43 05 86 02
; f v t W: www.ausbildungspark.com
E-? S[^\: kontakt@ausbildungspark.com

Copyright © 2011 Ausbildungspark Verlag – Gültekin & Mery GbR.

Alle Rechte liegen beim Verlag.

Das Werk, einschließlich aller seiner Teile, ist urheberrechtlich geschützt. Jede Verwertung außerhalb der engen Grenzen des Urheberrechtsgesetzes ist ohne Zustimmung des Verlages unzulässig und strafbar. Das gilt insbesondere für Vervielfältigungen, Übersetzungen, Mikroverfilmungen und die Einspeicherung und Verarbeitung in elektronischen Systemen.



Erfolgreich bewerben ist keine Glückssache!

Sicher durch den Einstellungstest!

So bestehen Sie die Prüfung zur Ausbildung in allen Logistik- und Lagerberufen.

Dieses Prüfungspaket ...

- **verrät Details zu den Prüfungsthemen:** alles zu den Eignungstests für Kaufleute für Spedition und Logistikdienstleistung, Fachkräfte für Lagerlogistik sowie Fachlageristen
- **ermöglicht die realistische Prüfungssimulation:** mit 5 Musterprüfungen, vielen Original-Testfragen, kommentierten Lösungen und ausführlichen Bearbeitungshinweisen
- **erklärt Aufgabentypen und Lösungsstrategien:** u. a. Sprachbeherrschung, Mathematik, Logik, Allgemeinwissen, Fachwissen, visuelles Denkvermögen

Bekämpfen Sie Prüfungsstress und Nervenflattern durch gezielte Vorbereitung – für einen Einstellungstest ohne böse Überraschungen!

2. Auflage

Artikel
ISBN

1205 – AP SK 1
978-3-95624-033-1

€ 39,90 [D]

